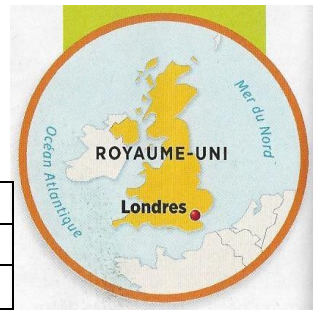
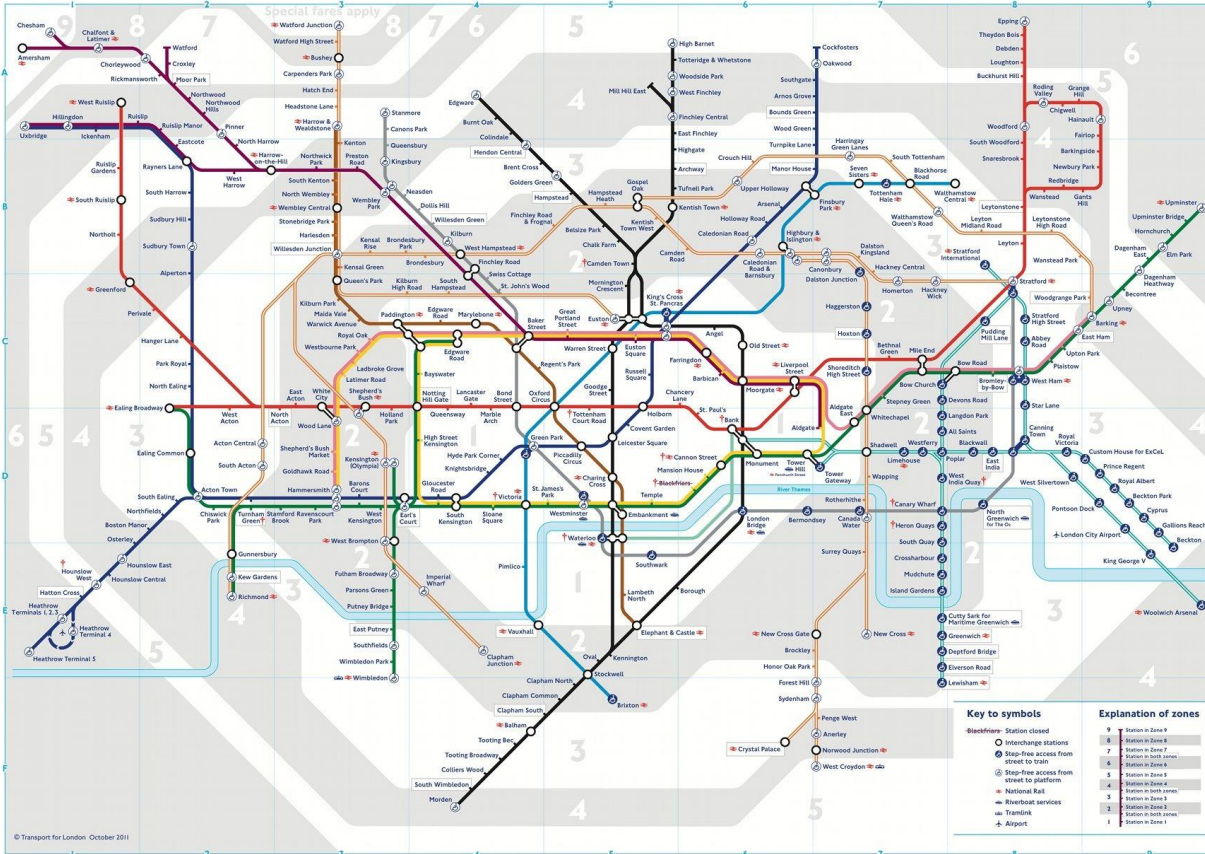


DOSSIER : LES PAYSAGES URBAINS DE LONDRES

Parcours géographique à travers la District Line du métro de Londres



CT : Je sais travailler en équipe	
A2 : Je sais nommer, localiser et caractériser des espaces	
B5 : Je sais utiliser des outils numériques pour effectuer une recherche	



Ci-contre :
Plan du métro de Londres

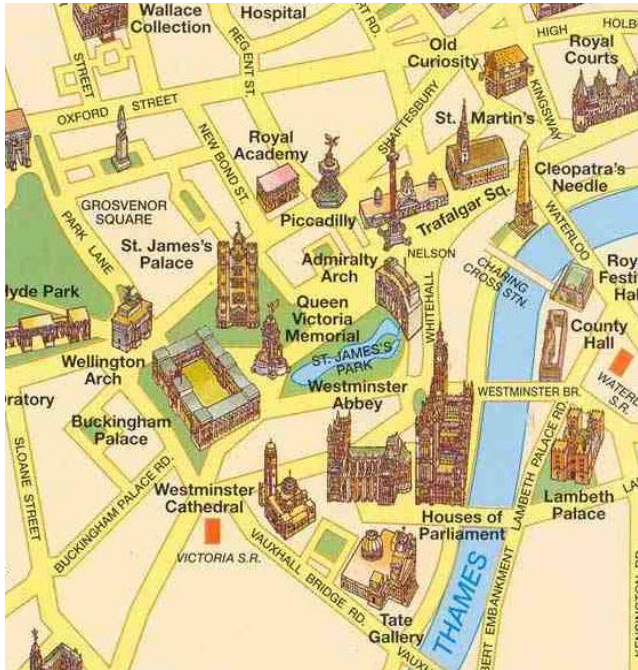
Croquis de synthèse (en classe entière, à la fin de l'activité) :

	<p>Légende :</p> <p>Quartiers étudiés :</p> <ul style="list-style-type: none"> City Westminster South Kensington Brick Lane Dagenham
--	---

LA VILLE-CENTRE : WESTMINSTER et la CITY

La ville-centre de Londres a deux noyaux historiques : Westminster et la City. Westminster est le **centre politique** du Royaume-Uni tandis que la City est son **centre financier**.

1^{ère} partie : Westminster, le centre politique :



Quartier de Westminster sur une carte touristique de Londres.

Photographie : Palais de Westminster et Tour Elizabeth (Big Ben)

1°) Complétez le tableau suivant en vous servant du moteur de recherche Vikidia

Bâtiment	Fonction (= ce à quoi il sert)
Buckingham Palace	
Abbaye de Westminster	
Palais de Westminster (<i>Houses of Parliament</i>)	
10 Downing Street	

Il est maintenant temps de vous familiariser avec Google Maps avant de poursuivre notre parcours.

- ① Allez sur Google Maps puis tapez « Westminster Station » dans la barre de recherche de Google Maps.
- ② Nommez le nom d'une rue qui se trouve : - à l'ouest de la station de métro :
- au nord de la station de métro :
- ③ Pour sortir de la station de métro, utilisez le bonhomme jaune qui se trouve en bas à droite et positionnez-le sur Westminster Station. Attendez que l'image charge. Face à quel bâtiment vous trouvez-vous ?
.....
- ④ Utilisez votre souris (en maintenant la touche de gauche appuyée) pour déplacer votre champ de vision.
- ⑤ Lorsque vous êtes face à la grande roue, appelez votre professeur afin qu'il vous permette de passer à l'étape suivante.

2^{ème} partie : la City, le centre financier

① En vous servant de Google Maps, rendez-vous à Bank Station puis positionnez votre bonhomme à la sortie de la station de métro.

② Décrivez le quartier (architecture, activités, façon dont les gens sont habillés, etc.) :

③ En vous servant de la carte de Google Maps, relevez des indices montrant que la City est un centre financier important :



Photographie : panorama de la skyline de la City.

④ En vous servant du manuel, recopiez la définition de « skyline » :

⑤ Comment appelle-t-on ce type de quartier (servez-vous du manuel p. 173, 175 ou 181) ?

Le phénomène de City

La City de Londres, campée sur ses 270 ha entre le pont de Blackfriars et la Tour de Londres, est fière du respect que lui manifeste le pouvoir royal ... Avec le temps, la fonction résidentielle a été peu à peu éliminée par les activités tertiaires, à tel point que l'on parle, en géographie de "phénomène de city". La City de Londres avait 123 300 habitants en 1801, 127 900 en 1851, seulement 51 000 en 1881, et un minimum de 4 234 en 1971, avant de reprendre une très légère progression : elle compte environ 6000 habitants maintenant. Déserte la nuit, elle accueille 350000 employés et cadres les jours ouvrables. De 9 à 17 heures, c'est une véritable ruche puis, entre 17 et 18 heures, ils se dispersent vers leurs banlieues respectives.

D'après C. Moindrot, L'Europe du Nord, Géographie univ. de Clermont-Ferrand, 1996.

⑥ D'après le texte ci-contre :

- Combien d'habitants compte la City ?

- Combien en comptait-elle en 1801 ?

- Souligne la phrase qui explique les causes de ce déclin démographique.

- Combien de personnes travaillent à la City ?

- Où habitent-ils ?

- Qu'en déduisez-vous en ce qui concerne la circulation à Londres ?

DEUX QUARTIERS PROCHES DU CENTRE : SOUTH KENSINGTON et BRICK LANE

① Localisez la station **South Kensington** par rapport au quartier de Westminster. *Pour cela, il faut aller sur Google Maps et changer d'échelle en vous servant de la fonction zoom en bas à droite.*

.....



Photographie : immeubles à South Kensington

② Placez-vous sur **Cranley Place** (sur Google Maps) : décrivez cette rue :

.....

South Kensington vue par une agence immobilière

Chic, enrichissant, animé : ce sont quelques-uns des adjectifs grâce auxquels on peut décrire le quartier de South Kensington à Londres. (...). Sa situation dans la ville de Londres est de premier choix et non loin du centre-ville! Une abondance de magasins, de musées, de parcs, de restaurants et de théâtres rendent le quartier dynamique, et en font l'un des endroits de Londres les plus visités par les touristes. (...) Le quartier regorge de boutiques haut de gamme, de galeries d'art, de magasins d'antiquités et de magasins de meubles design.

<http://www.nyhabitat.com/fr/blog/2014/09/03/>

③ D'après le texte ci-dessus, pourquoi ce quartier soit si demandé par les acheteurs ?

.....

④ En un mot, comment qualifieriez-vous ce quartier ?

① Localisez la rue **Brick Lane** par rapport au quartier de la City (City of London). *Pour cela, il faut aller sur Google Maps et changer d'échelle en vous servant de la fonction zoom en bas à droite.*

.....

② En vous promenant dans le quartier à l'aide du bonhomme jaune, relevez des indices montrant qu'il est en partie peuplée de gens originaires d'Inde ou du Bangladesh :

.....

A Londres, l'embourgeoisement provoque de plus en plus de tensions

Attaqué à coup de jets de peinture rouge et de graffitis, leur "Cereal Killer Cafe" a été pris pour cible lors d'une manifestation contre l'embourgeoisement du quartier (...). Gary et Alan Keery ne sont évidemment rien de tout cela. Mais leur café, qui vend 120 marques de céréales à plus de 3 livres le bol (4,10 euros) dans un cadre orné de souvenirs des années 1980 et 1990, est vu comme l'un des symboles de cette **gentrification** galopante.

Il est situé dans la rue de Brick Lane, cœur de la communauté bangladaise de Londres depuis des décennies et de plus en plus peuplée de jeunes branchés. (...) Les logements sociaux sont remplacés par des appartements luxueux et les petits magasins de quartiers par des grandes chaînes. "Cela devient tout simplement *inabordable pour les gens ordinaires, qui sont poussés hors de la ville*", explique-t-il.

Publié dans *La Dépêche du Midi* le 16/10/2015. AFP

③ Comment évolue ce quartier aujourd'hui ? Pourquoi cela provoque-t-il des tensions entre ses habitants ?

.....

④ En vous servant du manuel, recopiez la définition de **gentrification** :

.....

DAGENHAM :

C'est la dernière étape de notre parcours ! Sur Google Maps, rendez-vous à la station Dagenham Heathway.

- ① En haut à gauche, allez sur « Itinéraires » et calculez combien il faut de temps pour se rendre à la City (Bank Station) depuis Dagenham : - à pied :
- en transports en commun :

Qu'en déduisez-vous ?

.....

Déplacez le bonhomme jaune au 26 Langhorne Road (photo ci-dessous) puis à Siviter Way (photo ci-contre)



Photo n°2 : Siviter Way



Photo n°1 : Langhorne Road

- ② Décrivez chacune des 2 photographies en vous servant des mots suivants (attention : il y a deux intrus !) : lotissement pavillonnaire, quartier riche, habitat collectif, maison individuelle, centre historique, cité, tour.

Photo 1 : Langhorne Road	Photo 2 : Siviter Way

- ③ Allez sur le site www.totallymoney.com/squaredeal (ou demandez le fichier du professeur). La carte qui s'affiche indique le prix de l'immobilier (prix moyen pour 1m², en Livres) à chaque station de métro. Comparez le prix moyen de l'immobilier à Dagenham et à South Kensington.

- ④ Allez ensuite sur le site <http://life.mappinglondon.co.uk> . La carte qui s'affiche indique l'espérance de vie moyenne des habitants de chacun des quartiers desservis par le métro londonien. Comparez l'espérance de vie des habitants de Dagenham avec ceux de South Kensington.

A Dagenham, un quartier populaire de l'Est de Londres, les électeurs votent massivement depuis ce matin pour quitter l'Union européenne, qu'ils accusent d'être à l'origine de tous leurs maux. Reportage.

A Dagenham, ce quartier populaire de la banlieue Est de Londres (...), les drapeaux blancs frappés d'une croix rouge avec l'inscription "England" flottent partout aux fenêtres des petites maisons de briques décaties* en ce jour de référendum sur l'appartenance du Royaume-Uni à l'Union européenne. (...)

Un attroupement de retraités s'arrêtent à la hauteur de John. Ils sont nés ici, insistent-ils, mais ne se sentent plus chez eux. "Les logements sont devenus trop chers pour y loger nos enfants, on est obligé de faire des kilomètres pour voir un médecin, les écoles publiques sont une catastrophe", liste Laura, 80 ans, avec de faux airs de reine Elisabeth sous son chapeau rose. (...)

Ici, la campagne menée par le Premier ministre David Cameron en faveur du maintien du Royaume-Uni dans l'Union a peu convaincu : les risques économiques que pourrait provoquer une sortie ne font trembler personne à Dagenham. "Au point où on en est, ça ne peut pas être vraiment pire...", grommelle Tom, au chômage.

* décati = qui a perdu sa fraîcheur, devenu vieux

Sarah Halifa-Legrand, *Le Nouvel Observateur*, 23/06/2016

⑤ D'après ce texte et d'après ce que vous avez déjà appris sur ce quartier, qu'est-ce qui peut expliquer que les prix de l'immobilier soient plus faibles qu'à South Kensington ainsi que l'espérance de vie ?

.....

.....

.....

.....



Photographie aérienne du chantier de l'usine Sanofi à Dagenham, *The Enquirer*, 18/03/2014

⑥ A partir de la photographie aérienne, distinguez et nommez 3 types d'espaces puis expliquez comment l'étalement urbain se voit-il dans le paysage.

.....

.....

.....

.....

.....

⑦ Complétez le titre de cette partie (page précédente)